

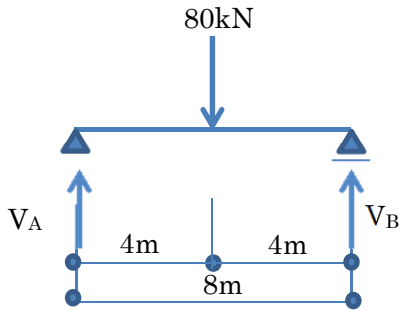
学籍番号

氏名

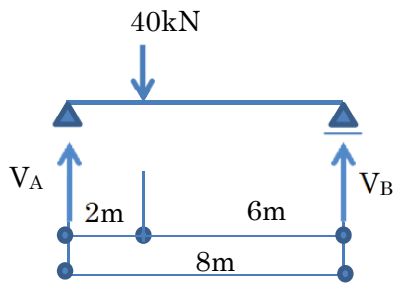
実施日 月 日

以下に示す静定梁の反力(V_A, V_B, M_A 等)を算出し、曲げモーメント図とせん断力図を描きなさい。

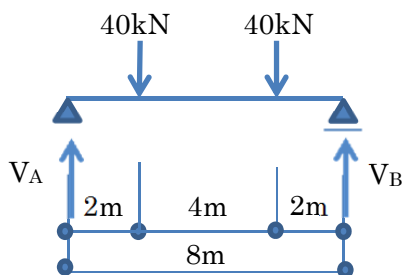
(1)



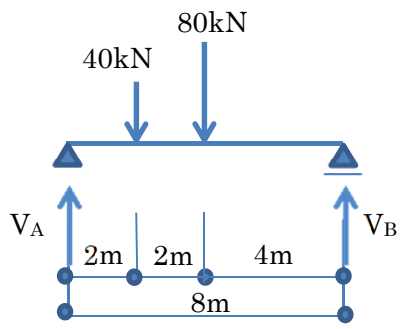
(2)



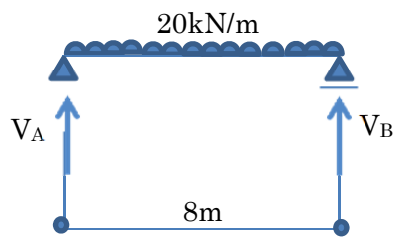
(3)



(4)



(5)



(6)

